

Mathématiques niveau CFG

Chapitre 9 : Graphiques

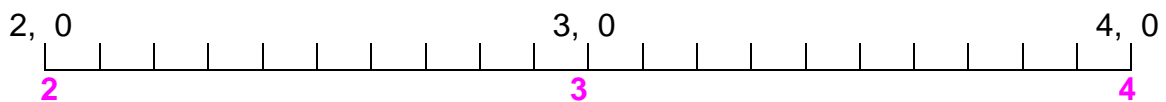
Exercices

COURS 1 : DROITE GRADUEE

Exercice 1.

a) compléter la graduation

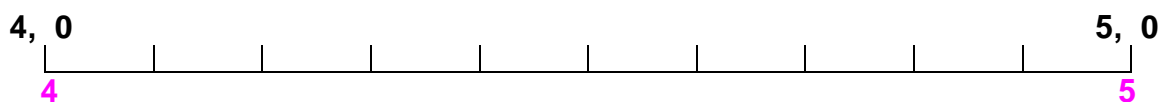
b) entourer les nombres : 2,2 - 2,5 - 2,7 - 3,2 - 3,9



Exercice 2.

a) compléter la graduation

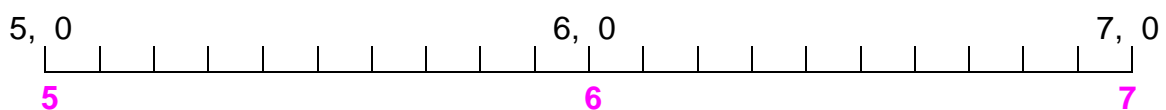
b) entourer les nombres : 4,5 - 4,2 - 4,6



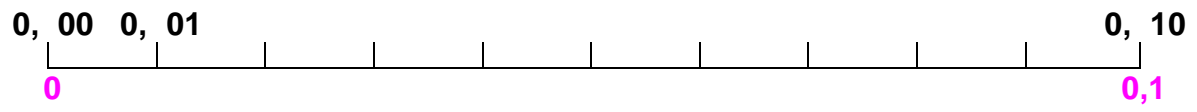
Exercice 3.

a) compléter la graduation

b) entourer les nombres : 5,3 - 5,6 - 5,8 - 6,0 - 6,4 - 6,7



Exercice 4.: compléter la graduation :



Exercice 5.: compléter la graduation :

