


## CFG palier 2 module 6 Organisation et gestion des données

### Exercices cours 4 : Repérage


#### Exercice 1.

Graduer l'axe ci-dessous selon le repère unitaire  $1 \text{ cm} = 10$



#### Exercice 2.

Graduer l'axe ci-dessous selon le repère unitaire  $1 \text{ cm} = 20$



#### Exercice 3.

Graduer l'axe ci-dessous selon le repère unitaire  $1 \text{ cm} = 50$



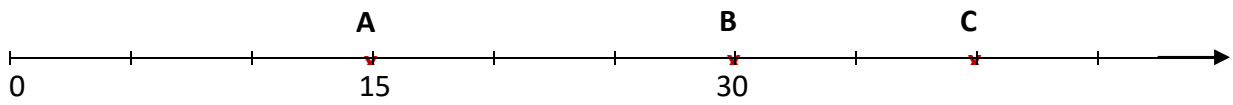
#### Exercice 4.

Graduer l'axe ci-dessous selon le repère unitaire  $2 \text{ cm} = 250$



### Exercice 5.

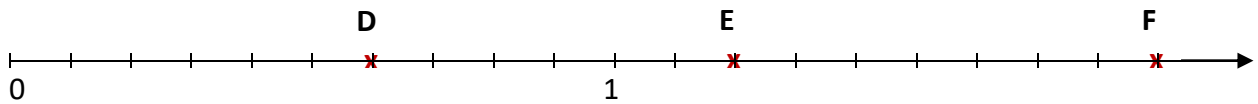
Déterminer les abscisses des points A ; B ; C ; D ; E ; F ; G ; H.



Abscisse de A : .....

Abscisse de B : .....

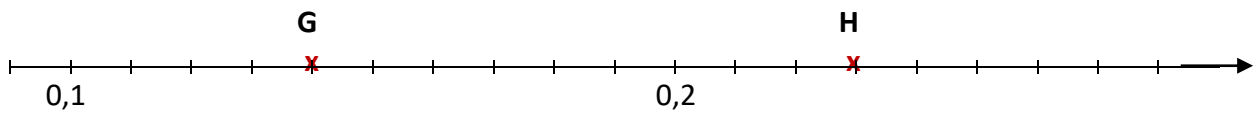
Abscisse de C : .....



Abscisse de D :

Abscisse de E :

Abscisse de F :



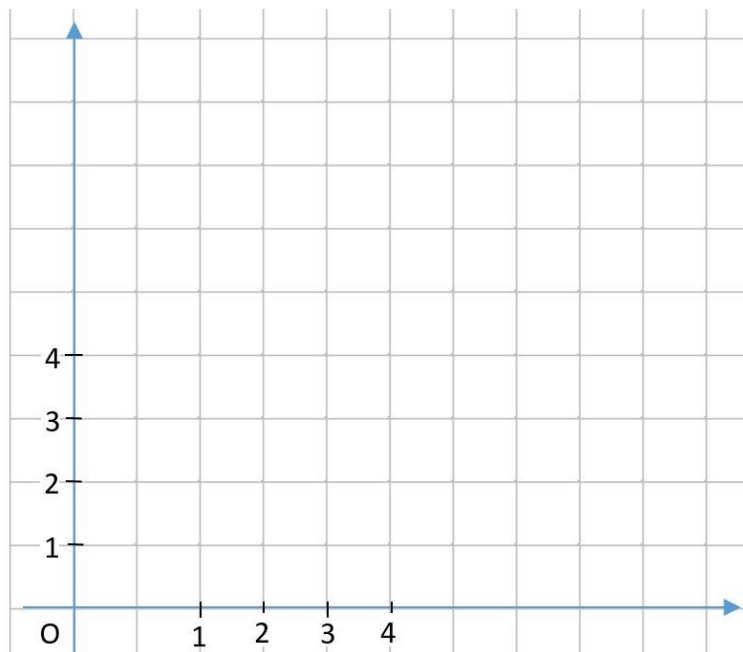
Abscisse de G :

Abscisse de H :

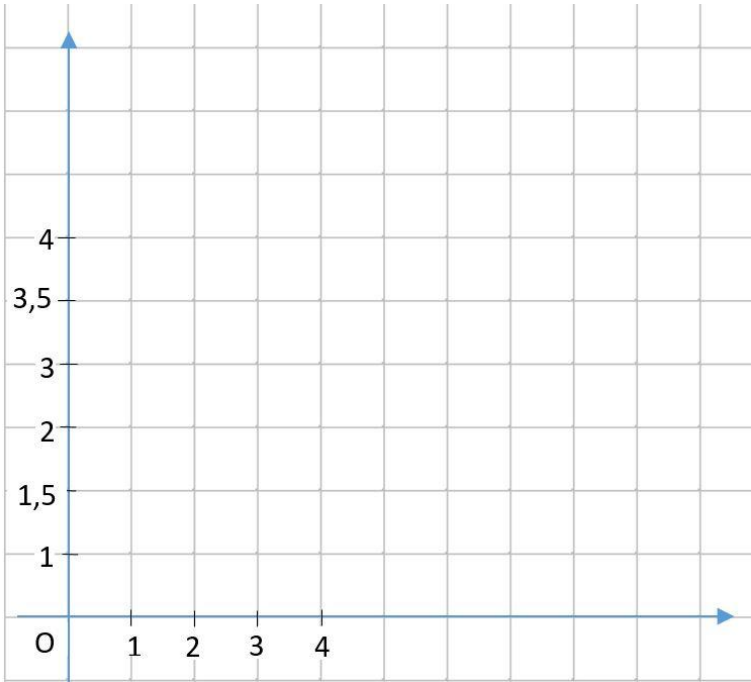
### Exercice 6.

Quelles sont les erreurs commises sur les repères A ; B ; C ci-dessous :

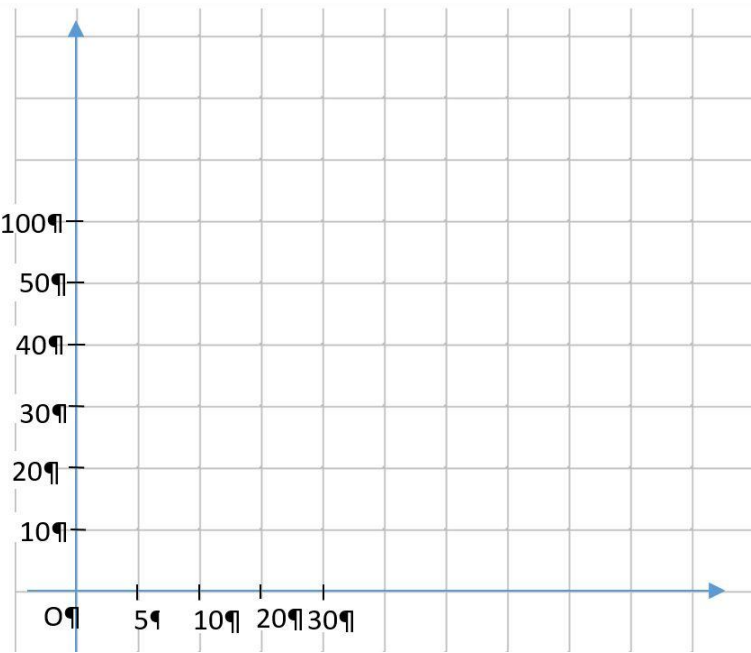
**A**  
1 erreur



**B**  
1 erreur



**C**  
2 erreurs



Exercice 7.

Tracer un repère orthogonal et placer les points suivants :

K (2 ; 4) ;    L (1 ;3) ;    M (0 ;3) ;    N (3 ; 0) ;    P (3 ;5)

a) Quel point se situe sur l'axe des abscisses : .....

b) Quel point se situe sur l'axe des ordonnées : .....

